




TOPLAMA İŞLEMİ -2



Kutunun içinde kaç tane elma var?


.....

Kutunun dışında kaç tane elma var?

.....

Kutunun dışındaki elmaları kutunun içine koyarsak kutuda kaç elma olur?

.....



Kalemlerin içinde kaç tane kalem var?


.....

Kalemlerin dışında kaç tane kalem var?

.....

Kalemlerin dışındaki kalemleri kalemlerin içine koyarsak kalemlerde toplam kaç kalem olur?

.....



Rafta dizili kaç tane kitap var?

.....

Rafın dışında kaç tane kitap var?

.....

Rafın dışındaki kitapları rafa yerleştirirsek rafta dizili kaç tane kitap olur?

.....



Çocuk elinde kaç tane balon tutuyor?

.....

Çocuk elinde kaç tane balon tutmuyor?

.....

Çocuk tüm balonları eline tutarsa elinde kaç tane balon olur?

.....