





BÖLME İŞLEMİ (Nesne ve Grup Sayısı)


Aşağıdaki nesnelerin sayısını, kaçar gruplandırıldığını, kaç grup elde edildiğini örnekteki gibi yazınız.



- ❖ Simit sayısı : 8
- ❖ Kaçar gruplanmış : 2 'şer
- ❖ Kaç grup oluşmuş : 4



- ❖ Çiçek sayısı :
- ❖ Kaçar gruplanmış :
- ❖ Kaç grup oluşmuş :




- ❖ Kurdele sayısı :
- ❖ Kaçar gruplanmış :
- ❖ Kaç grup oluşmuş :

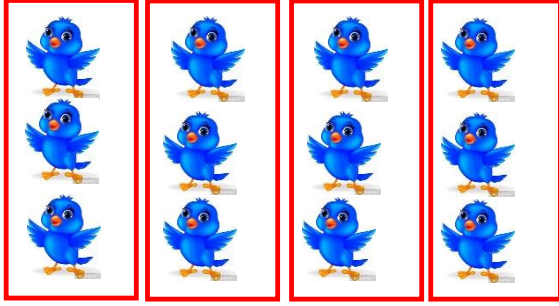


- ❖ Dondurma sayısı :
- ❖ Kaçar gruplanmış :
- ❖ Kaç grup oluşmuş :







- ❖ Kadın sayısı :
- ❖ Kaçar gruplanmış :
- ❖ Kaç grup oluşmuş :




- ❖ Kuş sayısı :
- ❖ Kaçar gruplanmış :
- ❖ Kaç grup oluşmuş :



- ❖ Erik sayısı :
- ❖ Kaçar gruplanmış :
- ❖ Kaç grup oluşmuş :



- ❖ Muz sayısı :
- ❖ Kaçar gruplanmış :
- ❖ Kaç grup oluşmuş :



- ❖ Erik sayısı :
- ❖ Kaçar gruplanmış :
- ❖ Kaç grup oluşmuş :