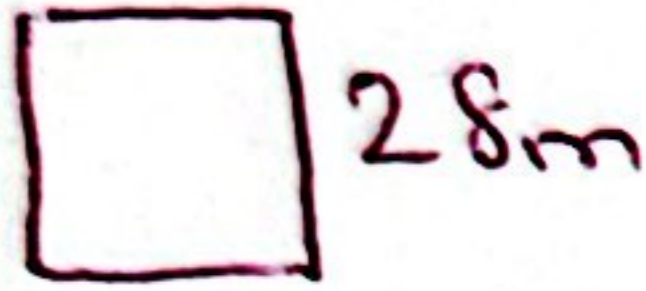




## ÇÖZÜMÜ

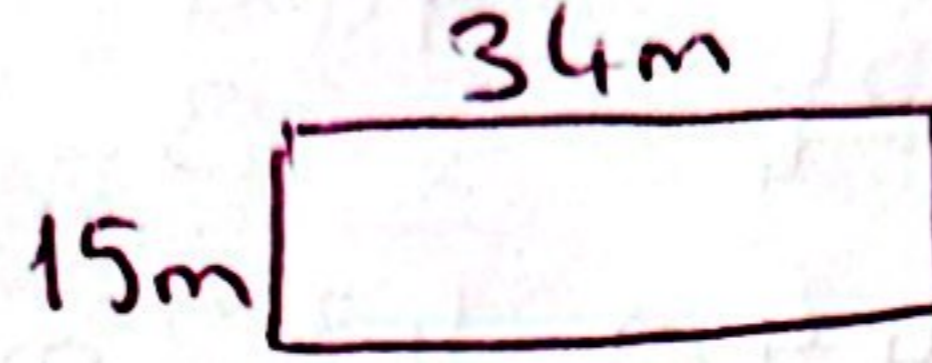
## ÇEVRE ÖLÇME PROBLEMLERİ-1

1.. Bir kenarının uzunluğu 28 m olan kare şeklindeki bahçenin çevre uzunluğu kaç m'dir?




$$\begin{array}{r} 28 \\ \times 4 \\ \hline 112 \text{ m'dir.} \end{array}$$

2.. Uzun kenarı 34 m, kısa kenarı 15 m olan dikdörtgen şeklindeki tarlanın çevre uzunluğu kaç m'dir?



$$\begin{array}{r} 34 \\ + 15 \\ \hline 49 \end{array} \quad \begin{array}{r} 49 \\ \times 2 \\ \hline 98 \text{ m'dir.} \end{array}$$

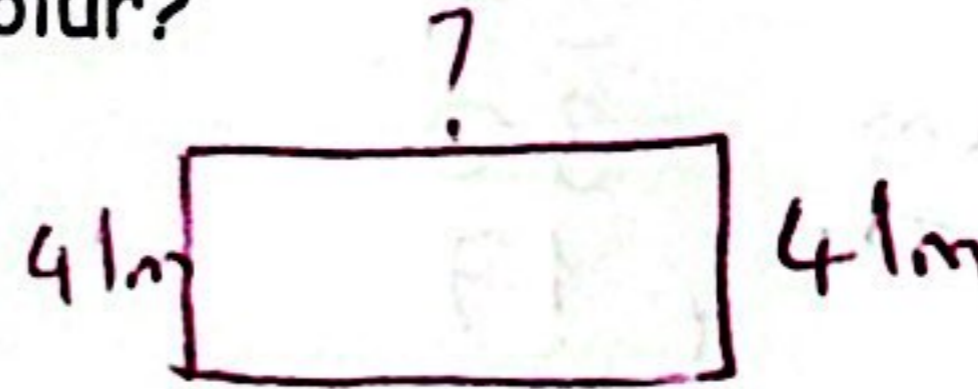
3.. Çevresini bir tur koştuğumda 256 m koştuğum kare şeklindeki halı sahanın bir kenar uzunluğu kaç m'dir?



$$Ç = 256 \text{ m}$$

$$\begin{array}{r} 256 \\ - 24 \\ \hline 016 \\ - 16 \\ \hline 00 \end{array} \quad \begin{array}{r} 64 \text{ m'dir.} \end{array}$$

4.. Çevresini 210 cm, kısa kenarını 41 m ölçtüğüm sehpanın uzun kenarı kaç cm olur?

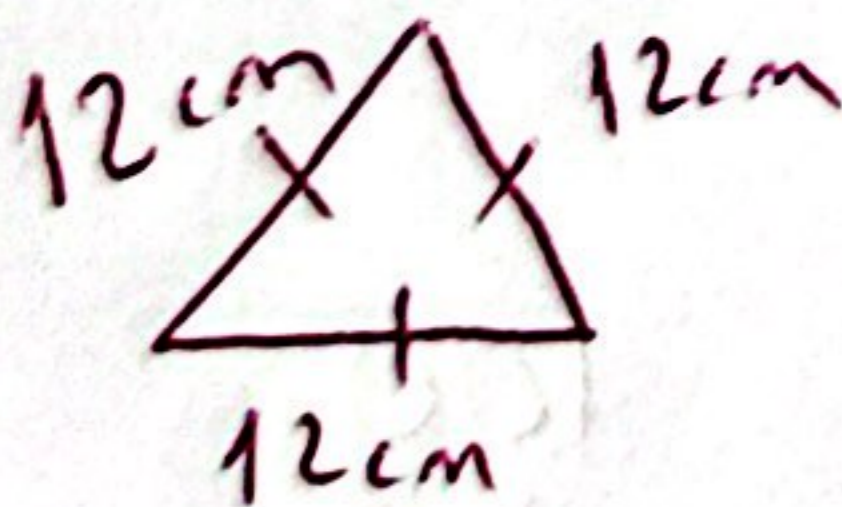


$$Ç = 210 \text{ cm}$$

$$\begin{array}{r} 41 \\ + 41 \\ \hline 82 \end{array} \quad \begin{array}{r} 128 \\ - 82 \\ \hline 46 \end{array}$$

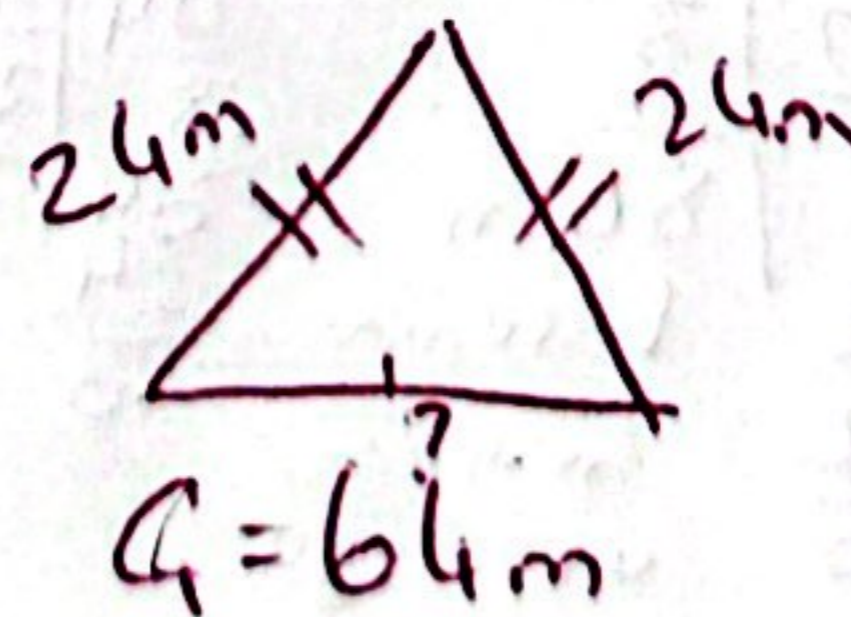
$$\begin{array}{r} 128 \\ - 12 \\ \hline 116 \\ - 50 \\ \hline 66 \end{array} \quad \begin{array}{r} 64 \text{ cm'dir.} \end{array}$$

5.. Bir kenarının uzunluğu 12 cm olan eş kenar üçgen şeklindeki sehpanın çevre uzunluğu kaç cm'dir?



$$\begin{array}{r} 12 \\ \times 3 \\ \hline 36 \text{ cm'dir.} \end{array}$$

6.. Çevresi 64 mm olan ikiz kenar üçgen şeklindeki kalem tıraşının ikiz kenarlarından biri 24 mm olduğuna göre farklı olan kenarı kaç mm'dir?



$$Ç = 64 \text{ mm}$$

$$\begin{array}{r} 24 \\ + 24 \\ \hline 48 \end{array} \quad \begin{array}{r} 64 \\ - 48 \\ \hline 16 \text{ mm'dir.} \end{array}$$





7.. Bir kenarının uzunluğu 36 m olan kare şeklindeki tarlanın çevresine üç sıra dikenli tel çekmek istiyorum. Kaç m dikenli tel almam gerekir?




$$\begin{array}{r} 36 \\ \times 4 \\ \hline 144 \end{array}$$

$$\begin{array}{r} 144 \\ \times 3 \\ \hline 432 \end{array}$$

dikenli tel almam gerekir.

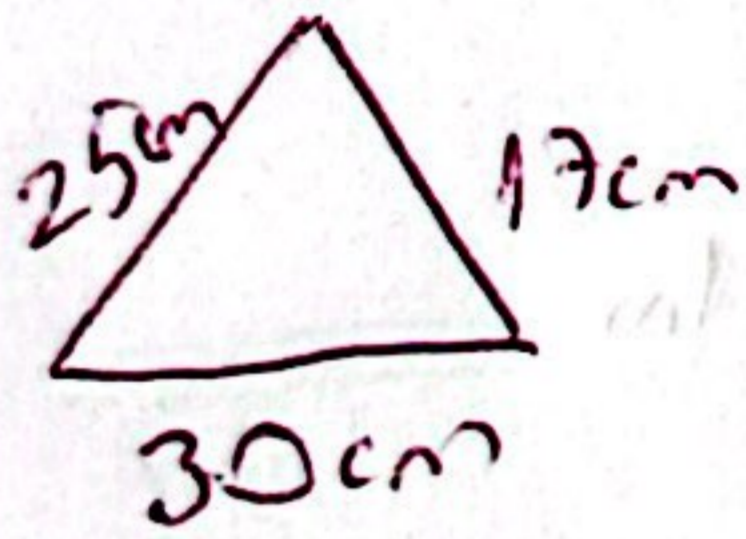
8.. Dört tur koştuğumda 76 m koştuğum dikdörtgen şeklindeki halı sahanın çevre uzunluğu kaç m'dir?



$$\begin{array}{r} 76 \\ \div 4 \\ \hline 19 \end{array}$$

19 m'dir.

9.. Kenar uzunlukları 25 cm, 30 cm, 17 cm olan çeşit kenar şeklindeki tokamın çevresi kaç cm'dir?



$$\begin{array}{r} 25 \\ 30 \\ + 17 \\ \hline 72 \end{array}$$

72 cm'dir.

10.. Uzun kenarı 32 m, kısa kenarı uzun kenarının çeyreği kadar olan dikdörtgenin çevresi kaç m'dir?



$$\begin{array}{r} 32 \\ \div 4 \\ \hline 8 \end{array}$$


8m kısa kenarı

$$\begin{array}{r} 32 \\ + 8 \\ \hline 40 \end{array}$$

$$\begin{array}{r} 40 \\ \times 2 \\ \hline 80 \end{array}$$

80 m'dir.

11. Üç sıra dikenli tel çektiğim zaman 252 m dikenli tel kullandığım kare şeklindeki bahçemin bir kenarının uzunluğu kaç m'dir?



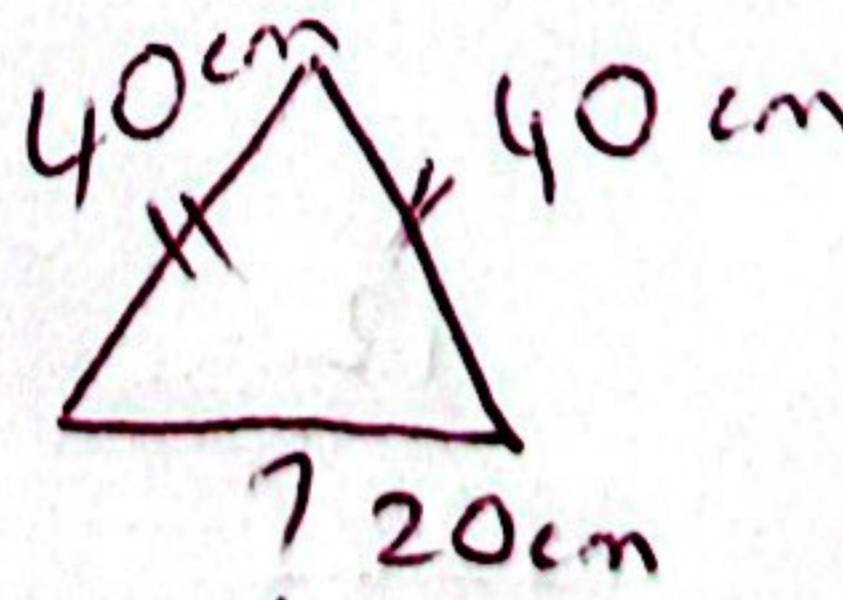
$$4 = 21m$$

$$\begin{array}{r} 252 \\ \div 3 \\ \hline 84 \end{array}$$

84 m kenarın çevre uzunluğu

$$\begin{array}{r} 84 \\ \div 4 \\ \hline 21 \end{array}$$

12.. İkiz kenarlarının toplamı 80 cm, çevresi 100 cm olan ikiz kenar üçgenin farklı olan kenarı kaç cm'dir?



$$4 = 100cm$$

İkiz kenarlardan biri 40cm'dir.

$$\begin{array}{r} 100 \\ - 80 \\ \hline 20 \end{array}$$

20 cm'dir.