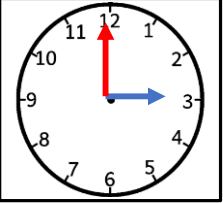










MATEMATİK DERSİ SEVİYE TESPİT ÇALIŞMASI

<p>1. 17 sayısının okunuşu aşağıdaki hangi şıkta doğru yazılmıştır? A)Onyedi B)On yedi C)Bir yedi</p>	<p>2. Yirmi bir sayısının rakamla ifade edilişi aşağıdakilerden hangisidir? A) 21 B) 201 C) 12</p>
<p>3. Aşağıdaki eşitliklerden hangisi yanlıştır? A) 1 onluk + 3 birlik = 13 B) 1 onluk + 5 birlik = 15 C) 2 onluk + 4 birlik = 20</p>	<p>4. Aşağıdakilerden hangisi ikişer ritmik saymadır? A) 6 - 8 - 10 - 12 B) 9 - 10 - 11 - 12 C) 6 - 9 - 10 - 15</p>
<p>5.  Yanda verilen saat kaçı göstermektedir? A) 03.30 B) 03.00 C) 12.00</p>	<p>6. - Bir hafta 7 gündür - Bir ay 30 gündür - Bir yıl 15 aydır Yukarıda verilen bilgilerden kaç tanesi doğrudur? A) 3 B) 1 C) 2</p>
<p>7. 6 kalemim vardı. 5 kalem daha aldım toplam kaç kalemim oldu? A)10 B) 11 C) 12</p>	<p>8. 15 balonumun 8 tanesi patladı. Geriye kaç balonum kaldı? A)8 B) 10 C) 7</p>
<p>9. Aşağıdakilerden hangisi standart olmayan uzunluk ölçme araçlarından <u>değildir</u>? A)  B)  C) </p>	<p>10.    Yukarıdaki paranın değeri kaç TL'dir? A) 30 TL B) 31 TL C) 25 TL</p>



TÜRKÇE DERSİ SEVİYE TESPİT ÇALIŞMASI

1. "pencere" kelimesi hangi seçenekte doğru hecelenmiştir?

- A) pen - ce - re
B) pe - nce - re
C) pen - cer - e

2. Aşağıdaki cümlelerin hangisinin sonuna nokta (.) **konulmaz**?

- A) Akşam erkenden uyudum
B) Ödevlerimi hemen bitirdim
C) Sinemaya gelecek misin

3. Satır sonuna sığmayan kelimeleri hangi noktalama işareti ile ayırırız?

- A) soru işareti B) virgül
C) kısa çizgi

4. "Tatilde Ankara'dan teyzemler bize gelecek." cümlesinde kaç kelime vardır?

- A) 6 B) 5 C) 4

5. " sıcak - iyi - uzak " kelimelerinin zıt anlamlıları hangi seçenekte verilmiştir?

- A) soğuk - kötü - yakın
B) ılık - çirkin - yakın
C) soğuk - pis - yakın

6. Aşağıdaki cümlelerin hangisinde kesme işareti (') yanlış kullanılmıştır?

- A) İstanbul'a gideceğiz.
B) Minnoş'u veterinerine götürdüm.
C) Okul'dan eve geldim.

7. Aşağıdaki kelimelerden hangisinin ilk harfi her zaman büyük yazılır?

- A) Pamuk B) Ayşe C) Boncuk

8. Aşağıdaki kelimelerden hangisi doğru yazılmıştır?

- A) soğan B) öğretmen C) penbe

9. Aşağıdaki kelime gruplarından hangisi cümle **değildir**?

- A) Karnım çok acıktı.
B) Pencerenin önüne kuş.
C) Kitap okudum.

10. Aşağıdaki cümlelerin hangisinin sonuna ünlem işareti konulur?

- A) Eyvah, orman yanıyor
B) Kitabım nerede
C) Parka gittim



HAYAT BİLGİSİ DERSİ SEVİYE TESPİT ÇALIŞMASI

1. Sınıftaki şeref köşesinde aşağıdakilerden hangisi **bulunmaz**?

- A) Türk Bayrağı
- B) Atatürk resmi
- C) Oturma planı

2. Atatürk nerede ve ne zaman doğmuştur?

- A) 1881 yılında Ankara'da doğmuştur.
- B) 1881 yılında Selanik'te doğmuştur.
- C) 1938 yılında Dolmabahçe Sarayı'nda doğmuştur.

3. Aşağıdaki seçeneklerin hangisinde dini bayramlarımız bir arada doğru yazılmıştır?

- A) Kurban Bayramı ve Çocuk Bayramı
- B) Spor Bayramı ve Ramazan Bayramı
- C) Ramazan Bayramı ve Kurban Bayramı

4. Her çeşit besinden yeteri kadar yediğimizde nasıl beslenmiş oluruz?

- A) Dengeli ve düzenli
- B) Kötü ve zararlı
- C) Çeşitli ve iyi

5. Hangi mevsimde okullar açılır ve ağaçlar yapraklarını döker?

- A) Kış mevsiminde
- B) Sonbahar mevsiminde
- C) Yaz mevsiminde





CEVAP ANAHTARI

MATEMATİK

1. B
2. A
3. C
4. A
5. B
6. C
7. B
8. C
9. A
10. B

TÜRKÇE

1. A
2. C
3. C
4. B
5. A
6. C
7. B
8. A
9. B
10. A

HAYAT BİLGİSİ

1. C
2. B
3. C
4. A
5. B