



TOPLAMA İŞLEMİ -3

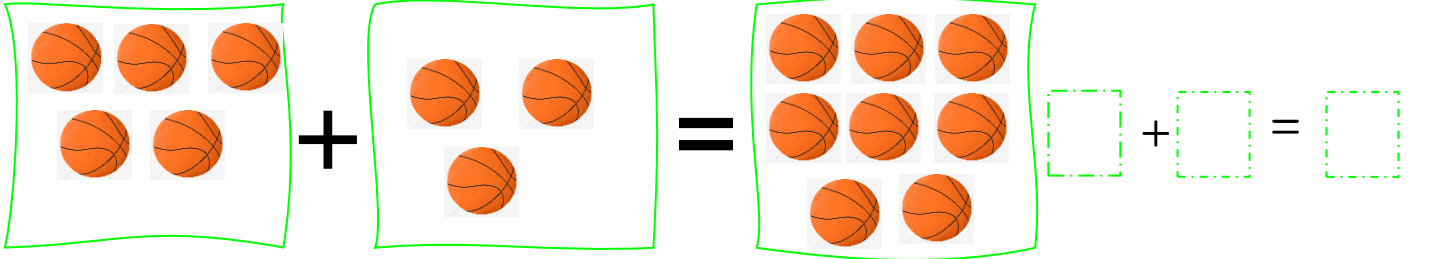
Şekillerle verilen toplama işlemlerini yapınız. Noktalı yerleri uygun bir şekilde doldurunuz.

$$3 + 2 = 5$$

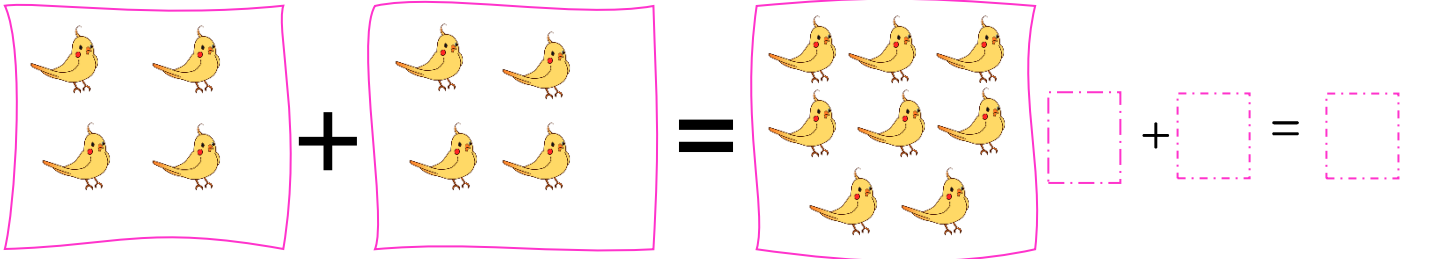
..... artı eşittir 'e eklersek eder.
 'ün fazlası eder. ile 'nin toplamı eder.

$$\square + \square = \square$$


..... artı eşittir 'e eklersek eder.
 'in fazlası eder. ile 'ün toplamı eder.



..... artı eşittir 'e eklersek eder.
 'in fazlası eder. ile 'ün toplamı eder.



..... artı eşittir 'e eklersek eder.
 'ün fazlası eder. ile 'ün toplamı eder.



..... artı eşittir 'e eklersek eder.
 'in fazlası eder. ile 'ün toplamı eder.