

## TOPLAMI 10 OLAN SAYILAR

$8 + 2 =$

$5 + 5 =$

$9 + 1 =$

$6 + 4 =$

$7 + 3 =$

$10 + 0 =$



## TOPLAMI 20 OLAN SAYILAR

$13 + 7 =$

$6 + 14 =$

$12 + 8 =$

$1 + 19 =$

$11 + 9 =$

$8 + 12 =$

## TOPLAMA ÇALIŞMALARI

$5 + 5 =$

$14 + 0 =$

$7 + 4 =$

$12 + 8 =$

$0 + 9 =$

$8 + 9 =$

$11 + 2 =$

$7 + 7 =$

$6 + 6 =$

$10 + 10 =$

$9 + 13 =$

$17 + 3 =$

$15 + 4 =$

$14 + 6 =$

$$\begin{array}{r} 14 \\ + 5 \\ \hline \end{array}$$

$$\begin{array}{r} 12 \\ + 4 \\ \hline \end{array}$$

$$\begin{array}{r} 8 \\ + 8 \\ \hline \end{array}$$

$$\begin{array}{r} 20 \\ + 0 \\ \hline \end{array}$$

## ONLUK BİRLİK ÇALIŞMALARI

35 =  onluk ve  birlik.

90 =  onluk ve  birlik.

88 =  onluk ve  birlik.

22 =  onluk ve  birlik.


13 =  onluk ve  birlik.

28 =  onluk ve  birlik.

77 =  onluk ve  birlik.



## TOPLAMA İŞLEMİ



5

10

15

20

25

## ALT ALTA TOPLAMA İŞLEMİ

$$\begin{array}{r} 4 \\ +7 \\ \hline \end{array} \quad \begin{array}{r} 8 \\ +6 \\ \hline \end{array} \quad \begin{array}{r} 9 \\ +9 \\ \hline \end{array} \quad \begin{array}{r} 15 \\ +5 \\ \hline \end{array} \quad \begin{array}{r} 10 \\ +9 \\ \hline \end{array} \quad \begin{array}{r} 17 \\ +9 \\ \hline \end{array}$$

30

## YAN YANA TOPLAMA

$$8 + 9 = \quad | \quad 7 + 3 = \quad | \quad 2 + 12 = \quad |$$

## 0 (SIFIR) İLE TOPLAMA

$$5 + 0 = \quad | \quad 0 + 8 = \quad | \quad 15 + 0 = \quad |$$

## İKİSERİ RİTMİK SAYMA

$$2 \quad \quad \quad 8 \quad \quad \quad 14$$

$$20 \quad \quad \quad 26$$

$$30 \quad \quad \quad 36 \quad \quad \quad 40$$

35

40

## Ş SESİ HIZLI OKUMA

Komsu

Komsu koştu.

Komsu bize koştu.

Şenay

Şenay almıştı.

Şenay eşya almıştı.

Yaşlı

Yaşlı gördüm.

Yaşlı baykuş gördüm.

Isıl

Isıl tut

Isıl kuş tut.

Isıl beş kuş tut.



Kuş

Kuş dolandı.

Kuş ormanda dolandı.

Şule

Şule oldu.

Şule başkan oldu.

Şener

Şener olmuş.

Şener aşı olmuş.

Ayşe

Ayşe al.

Ayşe şal al.

Ayşe yeşil şal al.



## ALFABE

- \* Dilimizde sesleri gösteren işaretlere **harf** denir.
- \* Harfler belirli bir sıraya dizilerek **alfabe** oluşur.
- \* Alfabemizde 29 harf vardır.

## ALFABE (Büyük harf)

A-B-C-Ç-D-E-F-G-Ğ-H-I-İ-J-K-L-M-N-O-Ö  
P-R-S-Ş-T-U-Ü-V-Y-Z

## Alfabe (Küçük harf)

a-b-c-ç-d-e-f-g-ğ-h-i-i-j-k-l-m-n-o-ö  
p-r-s-ş-t-u-ü-v-y-z

- \* Alfabemizdeki harflerin 21 tanesi **sessiz (ünsüz)**, 8 tanesi **sesli (ünlü)** harflerdir.

Ünlü harfler: a-e-i-i-o-ö-u-ü

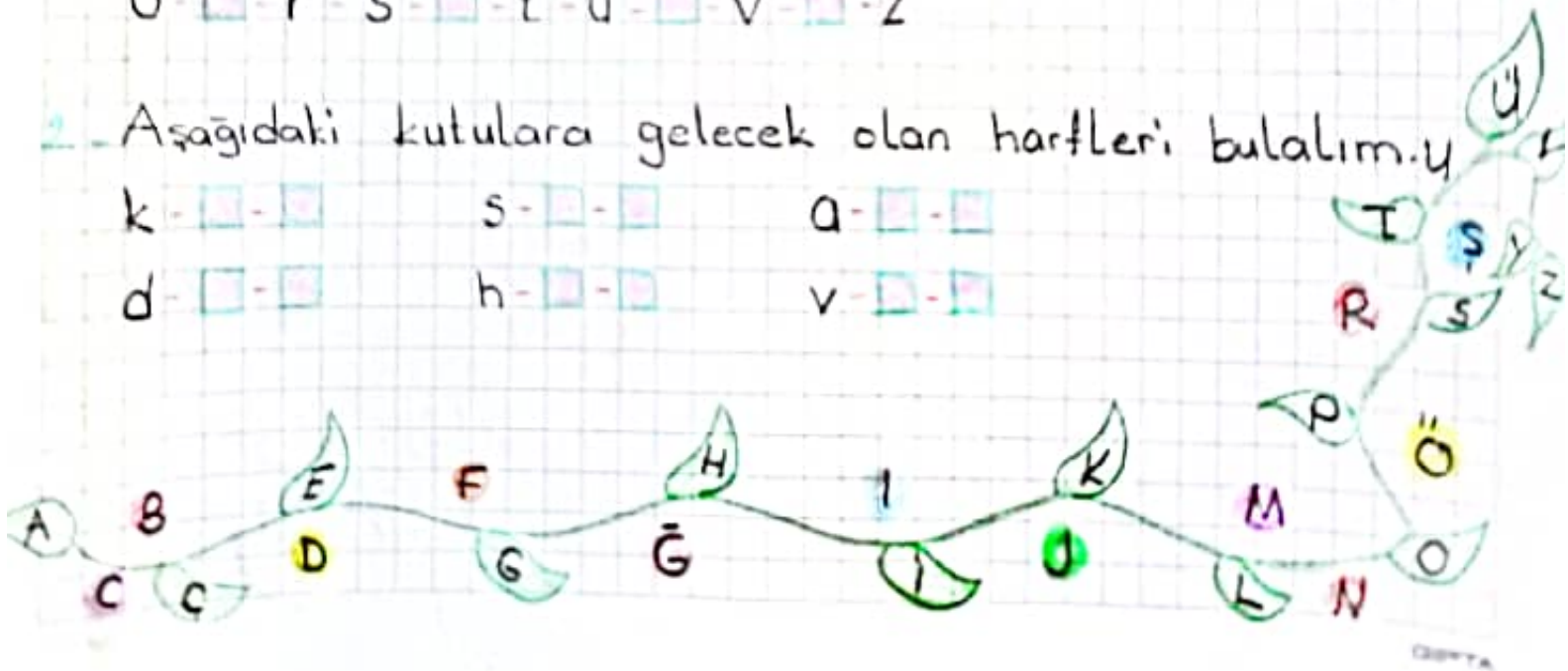
## ETKİNLİK

1. Alfabemizde boş bırakılan harfleri tamamlayalım.

a-b-□-ç-d-□-f-g-□-h-i-i-□-k-□-m-n-□-  
ö-□-r-s-□-t-u-□-v-□-z

2. Aşağıdaki kutulara gelecek olan harfleri bulalım.

k-□-□ s-□-□ a-□-□  
d-□-□ h-□-□ v-□-□



① Aşağıdaki sıraya göre eksik harfleri tamamlayalım.

t u k m e e g h o p r s

② Aşağıdaki boşlukları tamamlayalım.

- Alfabemizde ..... harf vardır.
- Alfabemizde ..... ünlü harf vardır.
- Alfabemizin 12 harfi ..... dir.

③ Ayşe dün parkta parasını kaybetti.

- Kim kaybetti?.....
- Ne kaybetti?.....
- Nerede kaybetti?.....

④ Alfabemizdeki ünlü (sesli) harfleri yazalım.

→ .....

⑤ Aşağıdaki işlemleri yapınız.

$$\begin{array}{r} 12 \\ + 6 \\ \hline \end{array} \quad \begin{array}{r} 13 \\ + 4 \\ \hline \end{array} \quad \begin{array}{r} 10 \\ + 7 \\ \hline \end{array} \quad \begin{array}{r} 8 \\ + 9 \\ \hline \end{array} \quad \begin{array}{r} 4 \\ + 0 \\ \hline \end{array}$$

⑥ Aşağıdaki işlemleri yapınız.

$$\begin{array}{r} 19 \\ - 7 \\ \hline \end{array} \quad \begin{array}{r} 11 \\ - 3 \\ \hline \end{array} \quad \begin{array}{r} 9 \\ - 7 \\ \hline \end{array} \quad \begin{array}{r} 15 \\ - 8 \\ \hline \end{array} \quad \begin{array}{r} 20 \\ - 5 \\ \hline \end{array}$$

⑦ Kumbaradaki paraları toplayıp yanına yazalım.



⑧ Aşağıdaki paraların miktarlarını yanlarına yazalım.

20 TL : ..... 50 TL : ..... 25 TL : ..... 10 TL : .....

⑨ Nezaket ifadelerinden 3 tanesini yazalım.

1. ....
2. ....
3. ....

⑩ Aşağıdaki boşluğa istek ve ihtiyaçlarımızı yazalım ve arasındaki farkı söyleyelim.

1) Yanındaki meyvenin eşini yuvarlak içine alalım.



2) Aşağıdaki varlıklardan en ağır olanı yuvarlak içine alalım.



3) Aşağıdaki nesnelere sayalım ve altlarındaki kutulara yazalım.



4) Aşağıdaki boşluklara önceki, sonraki ve arasındaki sayıları yazalım.



5) Geriye doğru ikişer sayalım ve boşluklara gelecek sayıları bulalım.



6) Aşağıda karışık olarak verilen sayılardan 10'dan küçük olanları kırmızıya, 10'dan büyük olanları maviye boyayalım.



7) Aşağıdaki sayıları onluk ve birliğine ayıralım ve boşluklara yazalım.

17 = ..... Onluk ve ..... birlik

20 = ..... Onluk ve ..... birlik

14 = ..... onluk ve ..... birlik

9) Aşağıdakilerden hangisi kişisel bakımla ilgilidir?

- A) Süt
- B) Şeker
- C) Yumurta

10) Aşağıdakilerden hangisi kişisel bakımla ilgilidir?

- A) Masa
- B) Tarak
- C) Çanta

### Verilmeyen Toplananı Bulma

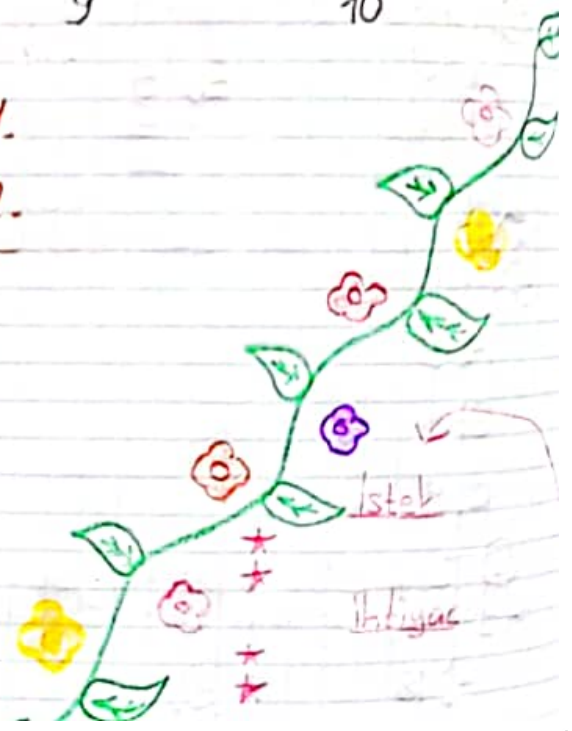
$$\begin{array}{r} \boxed{9} \\ + 3 \\ \hline 12 \end{array} \quad \begin{array}{r} 12 \\ - 3 \\ \hline \boxed{9} \end{array} \quad \begin{array}{r} \boxed{8} \\ + 7 \\ \hline 15 \end{array} \quad \begin{array}{r} 15 \\ - 7 \\ \hline \boxed{8} \end{array} \quad \begin{array}{r} \boxed{9} \\ + \boxed{8} \\ \hline 17 \end{array} \quad \begin{array}{r} 17 \\ - 9 \\ \hline \boxed{8} \end{array} \quad \begin{array}{r} \boxed{8} \\ + \boxed{4} \\ \hline 12 \end{array} \quad \begin{array}{r} 12 \\ - 8 \\ \hline \boxed{4} \end{array}$$

**Not:** Tüm verilmeyen toplanan sayıları bulmada çıkarma işlemi yapıyoruz.

$$\begin{array}{r} 4 \\ + 7 \\ \hline 11 \end{array} \quad \begin{array}{r} \boxed{\phantom{0}} \\ + 8 \\ \hline 17 \end{array} \quad \begin{array}{r} 6 \\ + \boxed{\phantom{0}} \\ \hline 16 \end{array} \quad \begin{array}{r} \boxed{\phantom{0}} \\ + 11 \\ \hline 19 \end{array}$$
$$\begin{array}{r} \boxed{13} \\ + \phantom{0} \\ \hline 18 \end{array} \quad \begin{array}{r} 7 \\ + \boxed{\phantom{0}} \\ \hline 22 \end{array} \quad \begin{array}{r} \boxed{\phantom{0}} \\ + 5 \\ \hline 9 \end{array} \quad \begin{array}{r} \boxed{\phantom{0}} \\ + 5 \\ \hline 10 \end{array}$$

Toplanan  
+ Toplanan  
-----  
Toplam

Toplananı 1.  
+ Toplananı 2.  
-----  
Toplam



## HAFTALIK DEĞERLENDİRME

① Aşağıdaki kelimelerden hangisi hecelerine yanlış ayrılmıştır?

A) ten - ce - re

B) tel - e - viz - yon

C) ka - lem - lik

② Aşağıdaki kelimelerden hangisi 7 harften oluşmuştur?

A) manzara

B) bilgisayar

C) elma

③ Aşağıdaki kelimelerden hangisinin hece sayısı doğru verilmiştir?

A) kanepes - 4 hece

B) flüt - 2 hece

C) Çamaşır - 3 hece

④ Aşağıdaki kelimelerin hangisinde 4 tane sesli harf vardır?

A) Pazartesi

B) Perşembe

C) Cuma

⑤ Aşağıdaki işlemlerden hangisi yanlış yapılmıştır?

$$\begin{array}{r} 8 \\ - 4 \\ \hline 4 \end{array}$$

$$\begin{array}{r} 5 \\ + 6 \\ \hline 12 \end{array}$$

$$\begin{array}{r} 9 \\ + 7 \\ \hline 16 \end{array}$$

⑥  $7 + \square = 12$  işleminde  $\square$  yerine aşağıdakilerden hangisi gelmelidir?

A) 3

B) 4

C) 5

⑦ Tarık dün 8 sayfa bugün ise 10 sayfa kitap okudu Tarık iki günde toplam kaç sayfa kitap okumuştur?

A) 18

B) 17

C) 16



DEĞERLERİ  
① Dört ile beşi toplarsak 9 eder. İfadesinin işlemi aşağı-  
lardan hangisidir?

A)  $6+3=9$

B)  $4+5=9$

C)  $13-4=9$

② Emin'in 15 balonu var. Balonlarının 5 tanesi patladı. Emin'e  
geriye kaç balonu kaldı?

A) 5

B) 10

C) 20

③ Aşağıdaki kelimelerin hangisinin tek başına anlamı yoktur?

A) pöçete

B) ekmek

C) ile

④ Aşağıdakilerden hangisinin hece sayısı farklıdır?

A) soğan

B) pasta


C) yumurta

⑤ Aşağıdakilerden hangisi koahvaltıda tükettiğimiz besinler  
değildir?

A) pilav

B) peynir

C) süt

⑥  Yandaki paraların toplamı  
kaç TL'dir?

A) 5 TL

B) 7 TL

C) 10 TL

⑦ Ecrin'in 8 civcivi Duru'nun ise 5 tane civcivi vardır. İkili  
toplam kaç civcivi vardır?

A) 10

B) 13

C) 21

⑧ Alfabemize göre f sesinden önce hangi harf gelmelidir?

A) ç

B) e

C) g

⑨ Alfabemizin 14. harfi hangisidir?

A) h

B) j

C) k

⑩ Annemizin kız kardeşi bizim neyiz olur?

A) teyze

B) hala

C) dayı

## Hece Bilgisi Etkinlikleri -

• Aşağıdaki tabloyu örnekteki gibi doldurunuz.

| Kelimeler | Hecelenisi | Ünlü Harf | Hece Sayısı |
|-----------|------------|-----------|-------------|
| defter    | def-ter    | e-e       | 2           |
| Öğretmen  |            |           |             |
| kedi      |            |           |             |
| Atatürk   |            |           |             |
| portakal  |            |           |             |
| masa      |            |           |             |
| simitçi   |            |           |             |
| önlük     |            |           |             |

★ Doğru hecelenen sözcüğün kutusunu boyayınız.

|              |
|--------------|
| may - mun    |
| ma - y - mun |
| ma - ymun    |

|                  |
|------------------|
| pe - nc - er - e |
| pen - er - e     |
| pen - ce - re    |

|              |
|--------------|
| el - b - ise |
| el - bi - se |
| el - is - e  |

★ Eksik bırakılan heceyi tamamlayınız.

televiz.....

.....lata

oon.....ma

şem.....ye

• Karışık verilen hecelerden kelime oluşturunuz.

ye tür ki

bi le leb

gen ze ge

• Aşağıdaki sözcüklerin hece sayısını kutusuna yazınız.

soğan

tank

başöğretmen

şemsiye

kasap

kalabalık

yüz

tiyatro

kütüphane

ÖNCESİNDE

○  $\leftarrow$  9

○  $\leftarrow$  6

○  $\leftarrow$  10

○  $\leftarrow$  12

○  $\leftarrow$  7

○  $\leftarrow$  15

ARASINDA

4  $\Rightarrow$  ○  $\leftarrow$  6

5  $\Rightarrow$  ○  $\leftarrow$  7

14  $\Rightarrow$  ○  $\leftarrow$  16

10  $\Rightarrow$  ○  $\leftarrow$  12

8  $\Rightarrow$  ○  $\leftarrow$  10

18  $\Rightarrow$  ○  $\leftarrow$  20

SONDASINDA

4  $\Rightarrow$  ○

8  $\Rightarrow$  ○

10  $\Rightarrow$  ○

11  $\Rightarrow$  ○

13  $\Rightarrow$  ○

20  $\Rightarrow$  ○



## TOPLAMA İŞLEMİ

$20 + 5 =$

$10 + 6 =$

$7 + 6 =$

$8 + 3 =$

$9 + 5 =$

$13 + 4 =$

$17 + 2 =$

$9 + 1 =$

$6 + 6 =$

$5 + 7 =$

$12 + 4 =$

$20 + 2 =$

$20 + 4 =$

$20 + 6 =$

$20 + 7 =$

$11 + 2 =$

$13 + 4 =$

$15 + 5 =$

$14 + 2 =$

$19 + 1 =$

$20 + 2 =$

$14 + 5 =$

$10 + 8 =$

$7 + 15 =$

$12 + 1 =$

$14 + 1 =$

$7 + 4 =$

$6 + 6 =$

$9 + 1 =$

$8 + 3 =$

$13 + 6 =$

$10 + 1 =$

$19 + 4 =$

$17 + 6 =$

$13 + 9 =$

$10 + 10 =$

$20 + 20 =$

$15 + 15 =$

$5 + 5 =$

$8 + 8 =$

$9 + 9 =$

$7 + 7 =$

$6 + 6 =$

$30 + 30 =$

$50 + 50 =$

$4 + 4 =$

$3 + 3 =$

$18 + 8 =$

**RİTMİK**  
Kutucuklarda verilen sayılara göre önceki sonraki ve aradaki sayıları yazalım.

6 ○ 8

○ 18 ○

12 ○ 14

○ 9 ○

18 ○ 20

Verilen sayılardan geriye doğru birer ritmik sayalım ve boş kutulara uygun sayıları yazalım.

5 4 3 2 1

13 12 11 10 8

20 19 18 17 14

9 ○ ○ ○ 4

15 14 13 12 11

30 29 28 27 26

**SAYMA**  
Aşağıdaki ritmik sayılarda boş bırakılan kutuları tamamlayalım.

2 4 6 8 10

12 14 16 18 20

5 10 15 20 25

30 35 40 45 50

10 20 30 40 50

60 70 80 90 100

1'den 20'ye kadar sayalım ve boş olan kutulara uygun sayıları yazalım.

1 2 3 4 5

6 7 8 9 10

11 12 13 14 15

16 17 18 19 20




1) Yukarıdaki meyrenin esini yuvarlak içine alalım.



2) Aşağıdaki varlıklardan en ağır olanı yuvarlak içine alalım.



3) Aşağıdaki nesnelere sayalım ve altlarındaki kutulara yazalım.



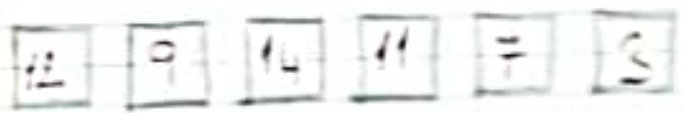
4) Aşağıdaki boşluklara önceki, sonraki ve orta sayıları yazalım.



5) Geriye doğru ikişer sayalım ve boşluklara gelecek sayıları bulalım.



6) Aşağıda karşıt olarak verilen sayılardan 10'dan küçük olanları kırmızıya, 10'dan büyük olanları mavimsi boyayalım.



7) Aşağıdaki sayıları onluk ve birliklerine ayıralım ve boşluklara yazalım.

17 = ..... Onluk ve ..... birlik

20 = ..... Onluk ve ..... birlik

14 = ..... Onluk ve ..... birlik