



ÖNCEKİ VE SONRAKİ SAATİ BULMA



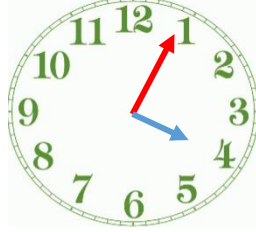
- 20 dakika önce saat kaçtı?

- 10 dakika sonra saat kaç olur?

- 1 saat 20 dakika sonra saat kaç olur?

- Kaç dakika sonra saat 02.15 olur?

- 1 saat önce saat kaçtı?




- Kaç dakika sonra saat 04.30 olur?

- Yarım saat sonra saat kaçtır?

- 3 saat sonra saat kaç olur?

- Kaç dakika önce saat 03.45'di?

- Kaç dakika sonra saat 05.05 olur?



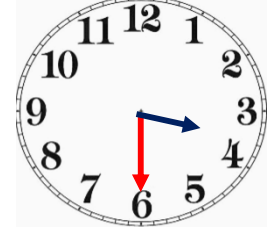
- Kaç dakika önce saat 09.30'du?

- Çeyrek dakika sonra saat kaçtır?

- 25 dakika önce saat kaçtı?

- 1 saat 5 dakika sonra saat kaç gösterir?

- Kaç dakika sonra saat 10.00 olur?



- Yarım saat önce saat kaçtır?

- 5 saat sonra saat kaç olur?

- 35 dakika önce saat kaçtı?

- Kaç dakika sonra saat 4 olur?

- 7 saat önce saat kaçtı?





- Aşağıdaki dijital saatlere verilen zamanları ekleyelim veya azaltalım. Yeni oluşan zamanı karşısına yazalım. (+ : ekleyelim - : azaltalım)

$$03.10 \xrightarrow{+ 25 \text{ dakika}} \boxed{\dots \cdot \dots}$$

$$10.30 \xrightarrow{- 15 \text{ dakika}} \boxed{\dots \cdot \dots}$$

$$11.25 \xrightarrow{-1 \text{ sa } 5 \text{ dk}} \boxed{\dots \cdot \dots}$$

$$06.40 \xrightarrow{+2 \text{ sa } 20 \text{ dk}} \boxed{\dots \cdot \dots}$$

$$00.00 \xrightarrow{+2 \text{ sa } 30 \text{ dk}} \boxed{\dots \cdot \dots}$$

$$02.45 \xrightarrow{-40 \text{ dakika}} \boxed{\dots \cdot \dots}$$

$$13.35 \xrightarrow{+ 25 \text{ dakika}} \boxed{\dots \cdot \dots}$$

$$15.55 \xrightarrow{-3 \text{ sa } 30 \text{ dk}} \boxed{\dots \cdot \dots}$$

$$07.05 \xrightarrow{-15 \text{ dakika}} \boxed{\dots \cdot \dots}$$

$$05.20 \xrightarrow{-2 \text{ sa } 15 \text{ dk}} \boxed{\dots \cdot \dots}$$

$$09.55 \xrightarrow{-3 \text{ sa } 20 \text{ dk}} \boxed{\dots \cdot \dots}$$

$$08.10 \xrightarrow{+3 \text{ sa } 25 \text{ dk}} \boxed{\dots \cdot \dots}$$

$$20.25 \xrightarrow{+2 \text{ sa } 10 \text{ dk}} \boxed{\dots \cdot \dots}$$

$$18.50 \xrightarrow{+ 35 \text{ dakika}} \boxed{\dots \cdot \dots}$$

$$12.15 \xrightarrow{-30 \text{ dakika}} \boxed{\dots \cdot \dots}$$

$$01.20 \xrightarrow{+5 \text{ sa } 40 \text{ dk}} \boxed{\dots \cdot \dots}$$

$$15.30 \xrightarrow{+35 \text{ dakika}} \boxed{\dots \cdot \dots}$$

$$14.45 \xrightarrow{-3 \text{ sa } 10 \text{ dk}} \boxed{\dots \cdot \dots}$$