



6 şar Ritmik Sayma Çalışması



✪ Bir sayıdan başlayarak ileriye doğru 6 adım ilerleyerek yapılan saymadır.

- Aşağıdaki sayı tablosunu 6 şar ileriye doğru kutularını boyayınız.



1	2	3	4	5	6	7	8	9	10
11	12	13	14	15	16	17	18	19	20
21	22	23	24	25	26	27	28	29	30
31	32	33	34	35	36	37	38	39	40
41	42	43	44	45	46	47	48	49	50
51	52	53	54	55	56	57	58	59	60
61	62	63	64	65	66	67	68	69	70
71	72	73	74	75	76	77	78	79	80
81	82	83	84	85	86	87	88	89	90
91	92	93	94	95	96	97	98	99	100

- Aşağıdaki sayılardan başlayarak 6'şar ritmik ilerletiniz.



- 6 şar ritmik sayma yapılırken aşağıdaki sayılardan önce ve sonra gelen sayıyı yazınız.

	12	
--	----	--

	60	
--	----	--

	30	
--	----	--

	85	
--	----	--

	54	
--	----	--

	72	
--	----	--

	36	
--	----	--

	91	
--	----	--





7 şer Ritmik Sayma Çalışması



✦ Bir sayıdan başlayarak ileriye doğru 7 adım ilerleyerek yapılan saymadır.

- Aşağıdaki sayı tablosunu 7 şer ileriye doğru kutularını boyayınız.



1	2	3	4	5	6	7	8	9	10
11	12	13	14	15	16	17	18	19	20
21	22	23	24	25	26	27	28	29	30
31	32	33	34	35	36	37	38	39	40
41	42	43	44	45	46	47	48	49	50
51	52	53	54	55	56	57	58	59	60
61	62	63	64	65	66	67	68	69	70
71	72	73	74	75	76	77	78	79	80
81	82	83	84	85	86	87	88	89	90
91	92	93	94	95	96	97	98	99	100

- Aşağıdaki sayılardan başlayarak 7'şer ritmik ilerletiniz.



- 7 şer ritmik sayma yapılırken aşağıdaki sayılardan önce ve sonra gelen sayıyı yazınız.

14	
----	--

54	
----	--

24	
----	--

48	
----	--

70	
----	--

67	
----	--

86	
----	--

39	
----	--





8 er Ritmik Sayma Çalışması



✪ Bir sayıdan başlayarak ileriye doğru 8 adım ilerleyerek yapılan saymadır.

- Aşağıdaki sayı tablosunu 8 er ileriye doğru kutularını boyayınız.



1	2	3	4	5	6	7	8	9	10
11	12	13	14	15	16	17	18	19	20
21	22	23	24	25	26	27	28	29	30
31	32	33	34	35	36	37	38	39	40
41	42	43	44	45	46	47	48	49	50
51	52	53	54	55	56	57	58	59	60
61	62	63	64	65	66	67	68	69	70
71	72	73	74	75	76	77	78	79	80
81	82	83	84	85	86	87	88	89	90
91	92	93	94	95	96	97	98	99	100

- Aşağıdaki sayılardan başlayarak 8'er ritmik ilerletiniz.



- 8 er ritmik sayma yapılırken aşağıdaki sayılardan önce ve sonra gelen sayıyı yazınız.

16	
----	--

39	
----	--

52	
----	--

70	
----	--

27	
----	--

45	
----	--

68	
----	--

82	
----	--





9 ar Ritmik Sayma Çalışması



☀ Bir sayıdan başlayarak ileriye doğru 9 adım ilerleyerek yapılan saymadır.

- Aşağıdaki sayı tablosunu 9 ar ileriye doğru kutularını boyayınız.



1	2	3	4	5	6	7	8	9	10
11	12	13	14	15	16	17	18	19	20
21	22	23	24	25	26	27	28	29	30
31	32	33	34	35	36	37	38	39	40
41	42	43	44	45	46	47	48	49	50
51	52	53	54	55	56	57	58	59	60
61	62	63	64	65	66	67	68	69	70
71	72	73	74	75	76	77	78	79	80
81	82	83	84	85	86	87	88	89	90
91	92	93	94	95	96	97	98	99	100

- Aşağıdaki sayılardan başlayarak 9'ar ritmik ilerletiniz.



- 9 ar ritmik sayma yapılırken aşağıdaki sayılardan önce ve sonra gelen sayıyı yazınız.

18	
----	--

25	
----	--

41	
----	--

64	
----	--

90	
----	--

36	
----	--

58	
----	--

77	
----	--

