



## 5 cm, 10 cm, Yarım Metre, Bir Metre İle Ölçümler

1. Standart olmayan ölçme araçlarının yaklaşık uzunlukları ile eşleştiriniz.



10 cm



5 cm



Yarım metre



Bir metre



2. Aşağıda bedensel olmayan ölçme araçları ile yapılan ölçümler verilmiştir.



5 cm




10 cm



yarım metre



bir metre




..... cm



..... cm



..... cm



..... cm






3. Aşağıda verilen şeritlerin uzunluklarına göre nesnelerin uzunluklarını yazınız.

5 cm

10 cm

50 cm

1 metre



5 tane bir metre  
2 tane 50 cm isem;  
..... uzunluğunda olurum.




1 tane 1 metre  
1 tane 50 cm  
2 tane 10 cm isem;  
..... uzunluğunda olurum.




4 tane 1 metre,  
3 tane 50 cm, 2 tane 10 cm,  
5 tane 5 cm isem;  
..... uzunluğunda olurum.



7 tane 10 cm,  
4 tane 5 cm isem;  
..... uzunluğunda olurum.



2 tane 10 cm,  
4 tane 5 cm isem;  
..... uzunluğunda olurum.



3 tane 10 cm,  
2 tane 5 cm isem;  
..... uzunluğunda olurum.



4 tane 10 cm,  
3 tane 5 cm isem;  
..... uzunluğunda olurum.

