



GEOMETRİK KAVRAMLAR

NOKTA :




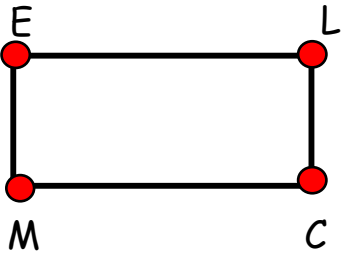
- Kalem ucunun kağıtta bıraktığı iz,
- Çivin duvarda bıraktığı iz,
- Gökyüzündeki yıldızlar,
- Yağmur damlaları,
- Cildimizdeki benler,
- Küpün köşeleri birer nokta modeline örnektir.
- Nokta "•" işareti ile gösterilir.
- Çeşitli büyüklüklerde olabilir. Büyüklüğü değerini değiştirmez.
- Nokta alfabenin büyük harfleriyle gösterilir.

• → A noktası

• → C noktası

ETKİNLİK:

1. Aşağıdaki geometrik şekillerin köşelerine birer nokta koyunuz ve noktaları isimlendiriniz.



2. Aşağıdaki şeklin üzerinde verilen yönergelere göre nokta koyunuz.



- Karenin sağ üst köşesine nokta koyunuz, İ harfi yazınız.
- Karenin sol üst köşesine nokta koyunuz, O harfi yazınız.
- Karenin sol alt köşesine nokta koyunuz, A harfi yazınız.
- Karenin sağ alt köşesine nokta koyunuz, Ö harfi yazınız.
- Karenin ortasına nokta koyunuz, H harfi yazınız.
- Karenin dışına nokta koyunuz, Ç harfi yazınız.
- Karenin sağ kenarının üstüne nokta koyunuz, Y harfi yazınız.
- Karenin üst kenarının üstüne nokta koyunuz, S harfi yazınız.






DOĞRU

- Her iki ucundan da sınırsız uzanan noktaların birleşimine **"doğru"** denir.
- Her iki ucundan asılarak uzayan lastik,
- Gergin hortum,
- Yol doğru modeline örnektir.
- Belirli bir kalınlığı yoktur.
- Başlangıç ve bitiş noktası yoktur.
- Doğrular küçük harfle isimlendirilir.




ETKİNLİK:

1. Aşağıdaki doğruya isim veriniz.



2. Aşağıda verilen noktalardan geçen iki kesişen doğru çiziniz ve isimlendiriniz.



3. Aşağıda verilen doğrulardan geçen kesişen bir doğru çiziniz ve isimlendiriniz.

