
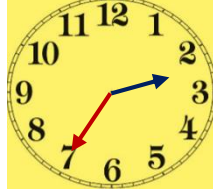



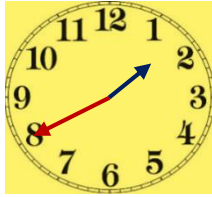




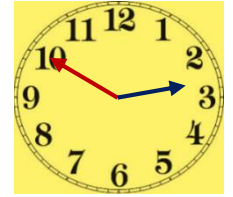




ZAMANI ÖLÇME DEĞERLENDİRME SORULARI

1. Aşağıda verilen saatlerin gösterdiği zamanlarını öğleden önce, öğleden sonra şeklinde ve okunuşlarını yazınız.(üçer puan - 36 puan)

Ö.Ö
Ö.S
.....Ö.Ö
Ö.S
.....Ö.Ö
Ö.S
.....Ö.Ö
Ö.S
.....Ö.Ö
Ö.S
.....Ö.Ö
Ö.S
.....Ö.Ö
Ö.S
.....Ö.Ö
Ö.S
.....Ö.Ö
Ö.S
.....Ö.Ö
Ö.S
.....Ö.Ö
Ö.S
.....Ö.Ö
Ö.S
.....

2. Aşağıda verilen dijital saatleri analog saate çeviriniz. (ikişer puan - 24 puan)



03 . 15




22 . 40




11 . 05



01 . 30



00 . 45




21 . 10



06 . 25



05 . 50




19 . 00



23 . 35



04 . 55



18 . 15





3. Aşağıda verilen iki saat dilimleriyle istenilen işlemleri yapınız. (10 puan)

04 . 30	12 . 25	09 . 35	22 . 50	04 . 10
+ 02 . 45	- 10 . 50	+ 03 . 35	- 20 . 25	+ 01 . 50

4. Aşağıdaki problemleri çözünüz. (beşer puan)

1.. Mine okula gitmek için sabah 08.20'de evden çıktı. 45 dakika sonra okula vardı. Okula vardığında saat kaçı gösterir?

Cevap :

2.. Her akşam ailecek 19.15 ile 20.05 arası kitap okuma saati yapıyoruz. Ailecek kaç saat kitap okuyoruz?

Cevap :

3.. İzmir'den 13.50'de havalanan uçak 4 saat 35 dakika sonra Ağrı'ya inmiştir. Uçak Ağrı'ya indiğinde saat kaçtır?

Cevap :

4.. Saat 10.00'da dışarıya çıktım yarım saat parkta oynadım, bir saat bisiklete bindim ve eve dönüşüm 15 dakika sürdüğüne göre eve geldiğimde saat kaçtır?

Cevap :

5.. Şuan saat 21.40 ise 5 saat 50 dakika önce saat kaçtı?

Cevap :

6.. Duvardaki saat 14.25'i gösteriyor. 8 saat 45 dakika sonra kaçı gösterir?

Cevap :