



AD SOY AD :

3. SINIF TÜM DERSLER DENEME SINAVI - 13.hafta

Matematik : Çarpma işlemi

1. Aşağıdaki tanımlardan hangisi çarpma işlemi ile ilgili değildir?

- A) Çarpılan terimlerin her birine çarpan denir.
- B) Eksilenleri aynı olan çıkarma işlemlerinin kısa yoldan yapılışıdır.
- C) Çarpma işleminin sonucuna çarpım denir.

2. Aşağıdaki işlemlerden hangisi çarpma işlemine **dönüştürülemez**?

- A) $3+3+5+3+3 =$
- B) $5+5+5+5+5+5+5+5=$
- C) $11+11+11=$

3. $7+7+7+7+7 = ?$

Yukarıdaki toplama işlemi ile ilgili yazılan ifadelerden hangisi **uygun değildir**?

- A) 5 tane 7'nin toplamı 35 eder.
- B) 5 kere 7 'nin sonucu 35 eder.
- C) $5 + 7$ 'nin sonucu 35 eder.

4. $9 \times 11 = ?$

Yukarıdaki çarpma işlemi hangi toplama işleminin kısa yoludur?

- A) $11+11+11+11+11+11+11+11$
- B) $11+11+11+11+11+11+11$
- C) $9+9+9+9+9+9+9+9+9+9$

5. $8 \times 6 = 6 \times 8$

Yukarıdaki işlemlerin tanımı hangisidir?

- A) Çarpanların toplamı 48 eder.
- B) Çarpanlar yer değişse de sonuç değişmez.
- C) Eşittirin sağ ve solunda farklı sonuçlar buluruz.

6. 8 kere 7 eşittir 56 eder.

Yukarıdaki ifadenin rakamla yazılışı hangisidir?

- A) $8 + 7 = 56$
- B) $8 * 7 = 56$
- C) $8 \times 7 = 56$





$$7. \quad 7 \times 3 = \square \times 7$$

$$2 \times \triangle = 9 \times 2$$

Yukarıdaki $\square \times \triangle = ?$

- A) 21 B) 27 C) 18

8. Aşağıdaki işlemlerden hangisinin sonucu farklıdır?

- A) 9×4 B) 6×6 C) 9×6

Türkçe : Yazım kuralları, büyük harflerin kullanıldığı yerler, cümle bilgisi, metin bilgisi, şiir bilgisi görsel yorumlama

1. "Yeni gelen arkadaşımız sınıfa hemen alıştı."

Yukarıdaki tümcede büyük harf neden kullanılmıştır?

- A) Tümcenin ilk harfi olduğu için
B) Özel ad olduğu için
C) Noktadan sonra geldiği için

2. Aşağıdaki hitaplardan hangisinin yazımı doğrudur?

- A) Canım Anneciğim,
B) Canım anneciğim,
C) canım anneciğim,

3. Aşağıdaki tümcelerden hangisinin yazımı doğrudur?

- A) Cemilin bacağı çizilmiş.
B) Neden sürekli konuşuyorsun!
C) Bağdat Caddesi'nde kaza olmuş.

4. Aşağıdaki bilgilerden hangisi doğrudur?

- A) Bitkilerin adı büyük harfle başlar.
B) Hayvanlara verilen adlar büyük harfle başlar.
C) Eşya adları büyük harfle başlar.

5.

Geldi beklediğimiz işte o an,
Kalbimize doldu bir heyecan,
Çalıştık tam sekiz ay durmadan,
Şimdi dinlen, oyna her an.

Seçil Can Yüzcül

Yukarıdaki şiire en uygun başlık hangisi olabilir?

- A) Okul Sevinci
B) Yaz Tatili
C) Okullar Açıldı





6. Sonra birden bire havlamaya başladı ve ayağa kalktı. Havladığını görünce çok sevindik. Çünkü ona bir şey olmamıştı.

Yukarıdaki metinde hangi olay anlatılıyor olabilir?

- A) Piknik gezisi
- B) Hayvanat bahçesi gezisi
- C) Kaza geçiren köpek



7. Yandaki görselde vurgulanmak istenen konu nedir?

- A) Yaşlılara yardım etmeliyiz.
- B) Yaşlılara yer vermeliyiz.
- C) Yaşlıların önünde yürümemeliyiz



8. Yukarıdaki görsele uygun metin yazmak istesek metnin konusu ne olmalıdır?

- A) Sahillerde piknik yapmak.
- B) Yaz tatilinde denize gitmek.
- C) Doğayı temiz tutmak.

Fen Bilimleri : Maddeyi Tanıyalım

1. Aşağıdaki maddelerden hangi ikisini karıştırmak sağlık için tehlikeli olabilir?

- A) Süt ve bal
- B) Kolonya ile suyu
- C) Çamaşır suyu ile tuz ruhunu

2. Aşağıdaki levhalardan hangisi tehlike olduğuna dair uyarı anlamındadır?

- A) 
- B) 
- C) 

3. Seda ne olduğunu bilmediği bir maddeyi merak edip tadına bakmıştır. Tadı çok acı gelmiş ve dilini yakmıştır.

Yukarıdaki olayda Seda ne yapmalıdır?

- A) Kimseye söylememelidir.
- B) Bir büyüğüne söylemelidir.
- C) Tadını tam anlayamadığını düşünerek biraz daha içmelidir.



4. Yaren Hanım yukarıdaki şişelerin birisine sıvı sabun diğerine çamaşır suyu koymuştur. Sıvı sabun el temizliği için faydalı ama çamaşır suyu zararlıdır. Bu yüzden karıştırılmaması için ne gibi bir önlem almalıdır?

- A) Şişeleri atmalıdır.
- B) Üzerine küçük etiket yapıştırarak içindekinin adını yazmalıdır.
- C) Evde yaşayanları içinde ne olduğuna dair uyarımalıdır.






5. Yukarıdaki levhayı gören Eren nasıl bir fikre kapılmalıdır?

- A) Maddenin zararsız ve dokunulabilir olduğuna
- B) Maddeyi kullanarak ellerini temizleyebileceğine
- C) Maddeye dokunmanın tehlikeli olduğuna

Hayat Bilgisi : Evde Hayat

1. Aşağıdakilerden hangisi elektronik bir teknolojik ürün **değildir**?

- A) 
- B) 
- C) 

2. Aşağıdaki teknolojik ürünlerden hangisi beslenme üzerinedir?

- A) 
- B) 
- C) 

3. Aşağıdaki ifadelerden hangisi yanlıştır?

- A) Teknolojik aletler hayatımızı kolaylaştırır.
- B) Cep telefonunun en önemli özelliği çok farklı oyunları oynayabilmektir.
- C) Teknolojik aletlerin yanlış kullanımında ciddi yaralanmalar yaşanabilir.



4. Yukarıdaki teknolojik aletler hangi ortak amaç için kullanılır?

- A) Yemek
- B) Sağlık
- C) Temizlik

Hazırlayanlar :

Sınıf Öğretmeni : Seçil CAN YÜZGÜL

Süre 40 dakika

BAŞARILAR...



AD SOY AD :

DENEME SINAVI -13.hafta OPTİK OKUYUCU**MATEMATİK****TÜRKÇE****FEN BİLİMLERİ****HAYAT BİLGİSİ**

1. (A) (B) (C)
2. (A) (B) (C)
3. (A) (B) (C)
4. (A) (B) (C)
5. (A) (B) (C)
6. (A) (B) (C)
7. (A) (B) (C)
8. (A) (B) (C)

1. (A) (B) (C)
2. (A) (B) (C)
3. (A) (B) (C)
4. (A) (B) (C)
5. (A) (B) (C)
6. (A) (B) (C)
7. (A) (B) (C)
8. (A) (B) (C)

1. (A) (B) (C)
2. (A) (B) (C)
3. (A) (B) (C)
4. (A) (B) (C)
5. (A) (B) (C)

1. (A) (B) (C)
2. (A) (B) (C)
3. (A) (B) (C)
4. (A) (B) (C)

AD SOY AD :

DENEME SINAVI -13.hafta OPTİK OKUYUCU**MATEMATİK****TÜRKÇE****FEN BİLİMLERİ****HAYAT BİLGİSİ**

1. (A) (B) (C)
2. (A) (B) (C)
3. (A) (B) (C)
4. (A) (B) (C)
5. (A) (B) (C)
6. (A) (B) (C)
7. (A) (B) (C)
8. (A) (B) (C)

1. (A) (B) (C)
2. (A) (B) (C)
3. (A) (B) (C)
4. (A) (B) (C)
5. (A) (B) (C)
6. (A) (B) (C)
7. (A) (B) (C)
8. (A) (B) (C)

1. (A) (B) (C)
2. (A) (B) (C)
3. (A) (B) (C)
4. (A) (B) (C)
5. (A) (B) (C)

1. (A) (B) (C)
2. (A) (B) (C)
3. (A) (B) (C)
4. (A) (B) (C)

**CEVAP ANAHTARI****MATEMATİK**

1. B
2. A
3. C
4. A
5. B
6. C
7. B
8. C

TÜRKÇE

1. A
2. A
3. C
4. B
5. B
6. C
7. A
8. C

FEN BİLİMLERİ

1. C
2. A
3. B
4. B
5. C

HAYAT BİLGİSİ

1. C
2. A
3. B
4. C