

AD SOY AD : **CEVAP ANAHTARI**

1. ÜNİTE DOĞAL SAYILARI DEĞERLENDİRME ÇALIŞMASI

1. Tabloda verilen doğal sayıların okunuşunu karşlarına yazınız.

| Sayı | Okunuşu |
|------|-------------|
| 25 | Yirmi beş |
| 64 | Altmış dört |
| 52 | Elli iki |
| 96 | Doksan altı |

2. Aşağıda onluk ve birliği verilen sayıları yazınız.

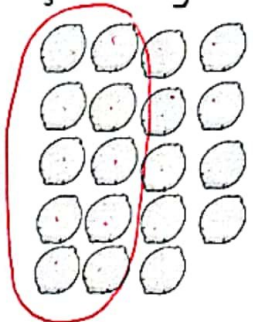
7 onluk + 3 birlik = **73**

1 birlik + 5 onluk = **51**

0 birlik + 6 onluk = **60**


3 onluk + 8 birlik = **38**

3. Nesne sayısını tabloda uygun bir şekilde gösteriniz.



| ... onluk | ... birlik |
|-----------------|------------|
| 10 | 9 |
| Sayı: 19 | |

4. Taban blokları ile modellenen sayıları yazınız.



4.. onluk + 5.. birlik

Sayı: **45**

7.. onluk + 2.. birlik


Sayı: **72**

5. Aşağıdaki sayıların basamak adı ve basamak değerlerini yazınız.

| 43 | Basamak Adı | Basamak Değeri |
|----|-------------|----------------|
| | Birler b. | 3 |
| | Onlar b. | 40 |

| 84 | Basamak Adı | Basamak Değeri |
|----|-------------|----------------|
| | Birler b. | 4 |
| | Onlar b. | 80 |





6. Aşağıya ikişer, üçer, dörder, beşer, onar ritmik sayıları yazınız.

2 - 4 - 6 - 8 - 10 - 12 - 14 - 16 - 18 - 20

3 - 6 - 9 - 12 - 15 - 18 - 21 - 24 - 27 - 30

4 - 8 - 12 - 16 - 20 - 24 - 28 - 32 - 36 - 40

5 - 10 - 15 - 20 - 25 - 30 - 35 - 40 - 45 - 50

10 - 20 - 30 - 40 - 50 - 60 - 70 - 80 - 90 - 100

7. Aşağıdaki noktalı yerleri doldurunuz.

1 deste =10..... eder.

1 düzine =12..... eder.

2 düzine =24..... eder.

3 deste =30..... eder.

8. Aşağıdaki sayıları küçükten büyüğe sıralayınız.

45, 15, 38, 24

15, 24, 38, 45

36, 81, 40, 34

34, 36, 40, 81

9. Aşağıdaki tabloda okunuşu verilen sayıyı yazınız.

| Okunuşu | Sayı |
|-------------|------|
| Altmış yedi | 67 |
| Seksen altı | 86 |
| Yedi | 7 |
| Elli iki | 52 |

10. Aşağıdaki sayıları büyükten küçüğe sıralayınız.

9, 57, 27, 67

67, 57, 27, 9

23, 41, 17, 39

41, 39, 23, 17

11. Aşağıdaki sayıların en yakın onluğunu yazınız.

23 =20.....

45 =50.....

52 =50.....

57 =60.....

38 =40.....

9 =10.....

74 =70.....

65 =70.....

Başarılar dilerim...

