



ROMEN RAKAMLARI ETKİNLİĞİ

I

V

X

1. Aşağıdaki sayıların Romen rakamlarını altlarına yazınız.

1	2	3	4	5	6	7	8	9	10

11	12	13	14	15	16	17	18	19	20

2. Aşağıdaki sayıların Romen rakamlarını altlarına yazınız.

V	VI	I	X	XVII	XI	XII	IV	VII	XIV

XX	XIII	XV	III	VIII	XIX	XVIII	XVI	II	IX

3. Aşağıda karışık verilen sayıların Romen rakamlarını karşısına yazınız.

7		15		9		8	
12		18		10		5	
20		5		17		14	





4. Aşağıda Romen rakamları ile toplama işlemleri verilmiştir. Sonuçlarını bulup Romen rakamları şeklinde yazınız.

$$IV + II = \dots$$

$$V + I = \dots$$

$$V + V = \dots$$

$$III + I = \dots$$

$$X + II = \dots$$

$$V + X = \dots$$

$$VI + II = \dots$$

$$VI + III = \dots$$

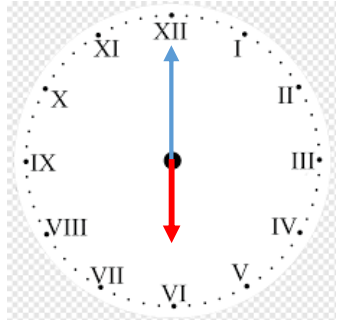
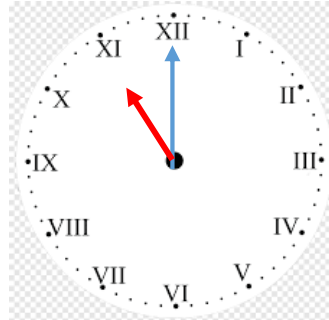
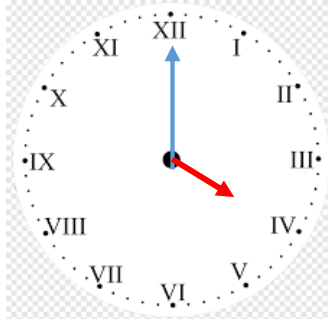
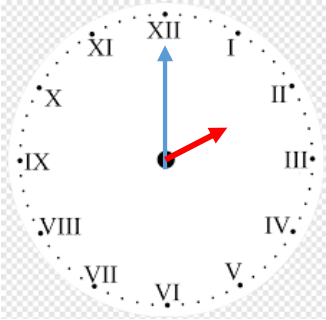
$$IX + I = \dots$$

$$IX + V = \dots$$

$$IV + XIV = \dots$$

$$XV + V = \dots$$

5. Aşağıda verilen saatlerin kaç gösterdiğini altlarına yazınız.

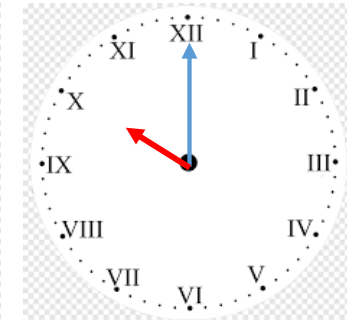
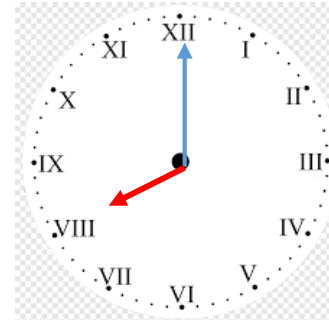
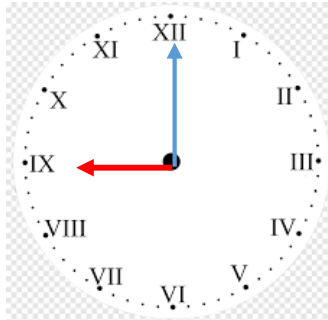
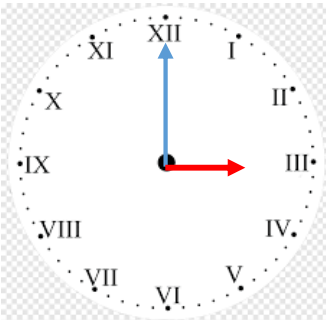


..... :

..... :

..... :

..... :



..... :

..... :

..... :

..... :

